

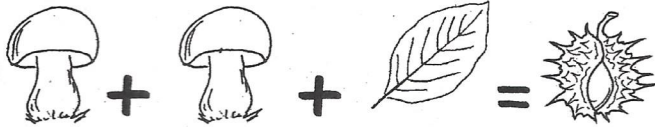



KNOBELAUFGABE

Lerngruppen 1/2

für die ganze Familie



Welches Symbol steht für welche Zahl?



TIPP: Es sind Zahlen aus dem Zahlenraum 1 bis 10 gesucht!

Name: Klasse:

Bitte bis zum 23. 10. 2017 in den roten Knobelbriefkasten stecken.
Die Lösung findest du ab dem 28. 10. 2017 auf: www.haertenschule.com.

KNOBELAUFGABE

Lerngruppen 3/4

für die ganze Familie

$$100 : \text{apple} = \text{hedgehog}$$

$$\text{leaf} \cdot \text{mushroom} - \text{apple} \cdot \text{mushroom} = \text{maple leaf}$$

$$\text{leaf} : \text{apple} + \text{leaf} : \text{apple} = \text{leaf}$$

$$\text{mushroom} \cdot \text{mushroom} + \text{mushroom} \cdot \text{mushroom} = \text{hedgehog}$$

$$\text{spiky insect} \cdot \text{mushroom} - \text{mushroom} + \text{apple} \cdot \text{mushroom} + \text{apple} \cdot \text{mushroom} = \text{hedgehog}$$

$$\text{hedgehog} - 4 \cdot \text{mushroom} = \text{maple leaf}$$

Welches Symbol steht für welche Zahl?

$$\text{mushroom} = \underline{5}$$

$$\text{hedgehog} = \underline{50}$$

$$\text{leaf} = \underline{8}$$

$$\text{apple} = \underline{2}$$

$$\text{spiky insect} = \underline{7}$$

$$\text{maple leaf} = \underline{30}$$

TIPP: Es sind Zahlen aus dem Zahlenraum 1 bis 50 gesucht!

Name: Klasse:

Bitte bis zum 23.10.2017 in den roten Knobelbriefkasten stecken.
Die Lösung findest du ab dem 28.10.2017 auf: www.haertenschule.com.